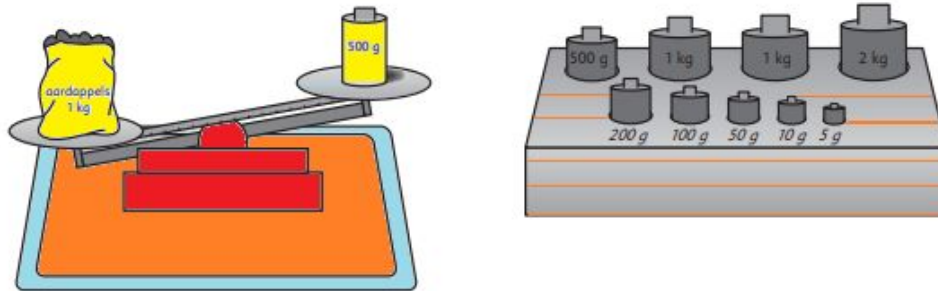


Meten - Gewicht

Som 1. Met welke gewichten meet je? Gebruik zo min mogelijk gewichten?



	2 kg	1 kg	500 g	200 g	100 g	50 g	10 g	5 g
1600 gram appels								
1360 gram kool								
3500 gram aardappels								
2750 gram peren								

Som 2. Zet de vogels op volgorde van licht naar zwaar

	1 kg	100 g	10 g	1 g
winterkoninkje	0	0	0	9
roodborstje	0	0	1	6
kraai	0	5	0	0
ooievaar	3	5	0	0
meeuw	1	0	0	0
ransuil	2	5	0	0
vale gier	6	7	0	0

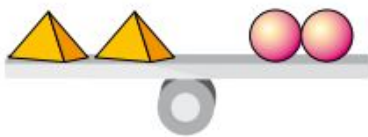
1	winterkoninkje	9 g
2		g
3		g
4		g
5		g
6		g
7		g

Som 3 Hoeveel gram moet er bij?

- Je hebt al 530 gram.
Hoeveel gram moet erbij voor 1 kg?
- Je hebt al 460 gram.
Hoeveel gram moet erbij voor 1 kg?
- Je hebt al 110 gram.
Hoeveel gram moet erbij voor 1 kg?
- Je hebt al 855 gram.
Hoeveel gram moet erbij voor 1,5 kg?

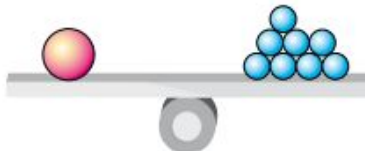
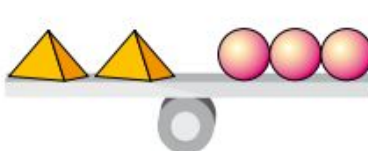
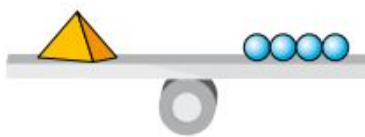
- e. Je hebt al 1405 gram.
Hoeveel gram moet erbij voor 1,5 kg?
- f. Je hebt al 1075 gram.
Hoeveel gram moet erbij voor 1,5 kg?
- g. Je hebt al 1625 gram.
Hoeveel gram moet erbij voor 2 kg?
- h. Je hebt al 365 gram.
Hoeveel gram moet erbij voor 2 kg?
- i. Je hebt al 8755 gram.
Hoeveel gram moet er bij voor 10 kg?

Som 4. Hoe zwaar zijn de figuren?



1 grote knikker is even zwaar als kleine knikkers.

1 blokje is even zwaar als kleine knikkers.



1 piramide is even zwaar als kleine knikkers.


1 blokje is even zwaar als kleine knikkers.



1 piramide is even zwaar als kleine knikkers.

1 blokje is even zwaar als kleine knikkers.

Som 5. Hoeveel kg wegen ze?



samen 21 kg



samen 24 kg



1 weegt kg.



1 weegt kg.



samen 42 kg



samen 90 kg



De weegt kg.



Het weegt kg.