

**Meten** Datum : \_\_\_\_\_

Naam : \_\_\_\_\_ Klas \_\_\_\_\_

**Opdracht 1** Omschrijf in je eigen woorden:

Wat is oppervlakte?

Wat is omtrek?

**Opdracht 2**

Teken 1 cm:

Teken: 1 mm

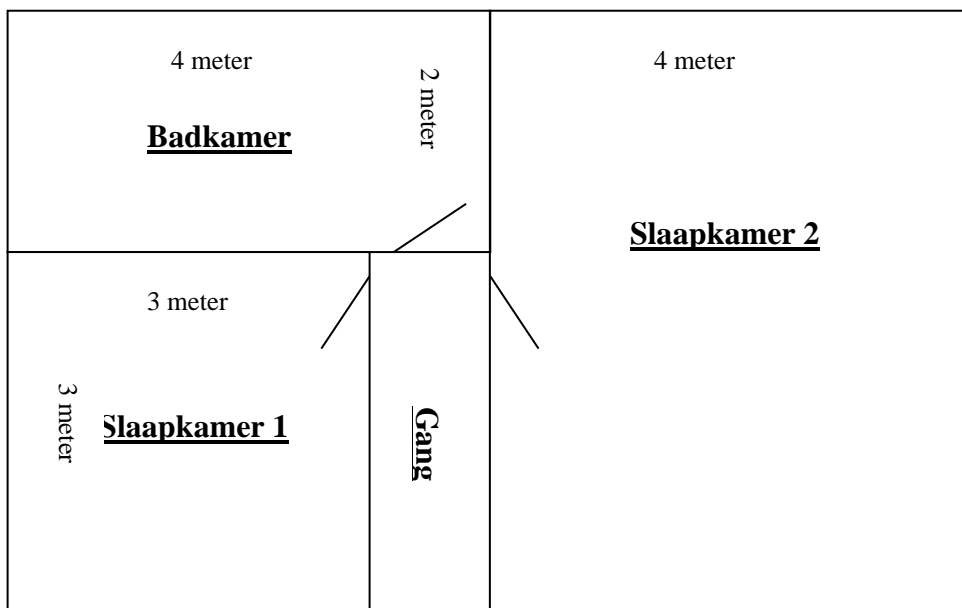
Teken 1 dm

Hoe lang is 1 meter.

Vul in

1 m =	cm	0,5 m =	cm	40 cm =	dm
1 cm =	mm	2 cm =	mm	8 cm =	mm
300 cm =	m	1,5 m =	cm	250 cm =	m
40 mm =	cm	2,5 cm =	mm	150 mm =	cm

**Opdracht 3** Kijk goed en vul in



Badkamer:		Slaapkamer 1:		Gang:		Slaapkamer 2:	
Lengte	m	Lengte	m	Lengte	m	Lengte	m
Breedte	m	Breedte	m	Breedte	m	Breedte	m
Omtrek	m	Omtrek	m	Omtrek	m	Omtrek	m
Oppervlakte	m <sup>2</sup>	Oppervlakte	m <sup>2</sup>	Oppervlakte	m <sup>2</sup>	Oppervlakte	m <sup>2</sup>


### **Opdracht 4**

Mevrouw Beerens wil een terras in de tuin.  
Het moet 2 meter breed worden. En 3 meter lang.

Wat is de oppervlakte van het terras ? \_\_\_\_\_


Ze wil tegels van 50 cm bij 50 cm.  
Hoeveel tegels heeft ze nodig ? \_\_\_\_\_

De tegels kosten €22,- per 6 stuks.  
Hoeveel moet mevrouw Beerens afrekenen ? \_\_\_\_\_



### **Opdracht 5**


Vul in:  
Een hectare is \_\_\_\_\_ meter lang en \_\_\_\_\_ meter breed.  
Schrijf in ieder weiland hoeveel hectare het is.



200 x 300 meter



300 x 300 meter



200 x 600 meter

